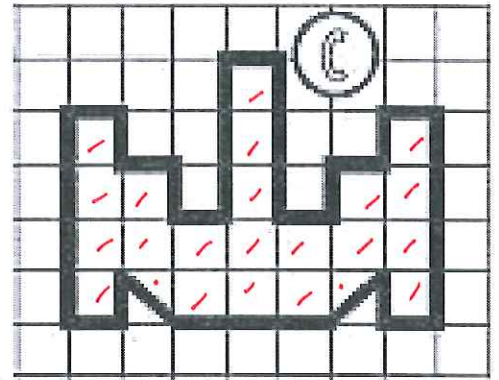
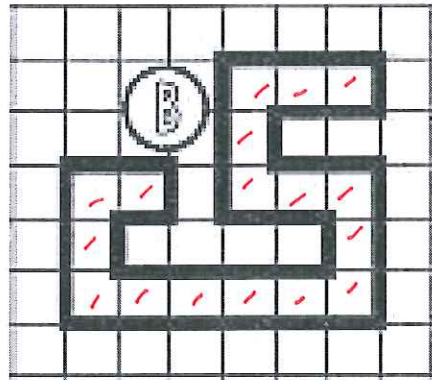
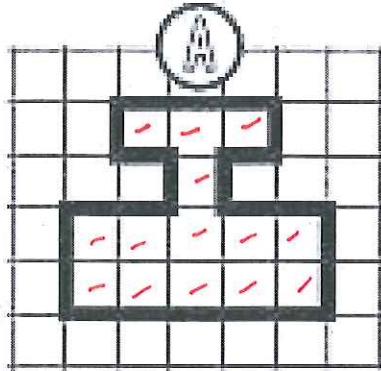


① Exprime l'aire de chaque surface avec l'unité choisie.

□ unité A

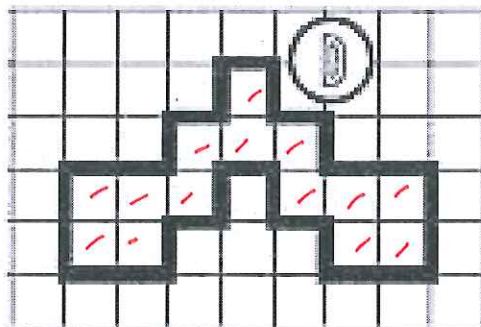


A = 14 unités d'aire

B = 17 unités d'aire

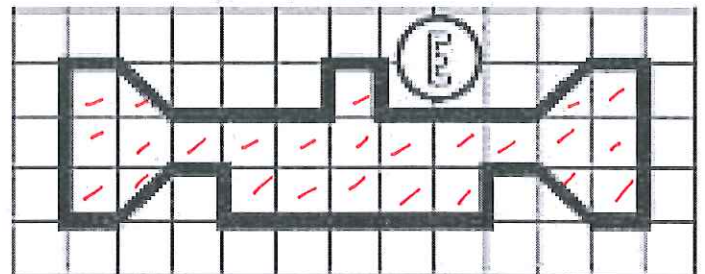
C = 22 unités d'aire

□  
unité B



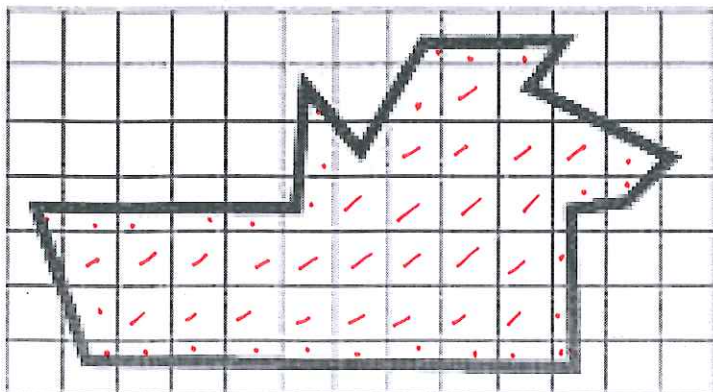
D = 14 unités d'aire

△  
unité C



E = 23 unités d'aire

② Estime l'aire de cette surface.



L'aire de cette surface est comprise entre 39 carreaux et 40 carreaux.

③ Dessine 3 figures qui auront une aire de 15 unités A mais pas la même forme.

□ unité A

④ Dessine 2 figures qui auront une aire de 10 unités B mais pas la même forme.

□ unité B

