



# Les Enigmes des pirates CE1



|                                                                                                                                                                                                                                                                                                                                               |                |          |                                                          |          |
|-----------------------------------------------------------------------------------------------------------------------------------------------------------------------------------------------------------------------------------------------------------------------------------------------------------------------------------------------|----------------|----------|----------------------------------------------------------|----------|
|                                                                                                                                                                                                                                                                                                                                               | <b>Enigmes</b> | <b>1</b> | <b>Ta réponse ... ici :</b>                              | <b>1</b> |
|  <p><b>Recette pour 10 biscuits :</b><br/>100g de farine<br/>2 œufs<br/>+mélange préparé</p> <p><b>A-</b>Combien faudra-t-il de farine et d'œufs pour faire 20 biscuits ?<br/><b>B-</b> Combien faudra-t-il de farine et d'œufs pour faire 15 biscuits ?</p> |                |          | a) .....<br>.....<br>.....<br>b) .....<br>.....<br>..... |          |
|                                                                                                                                                                                                                                                                                                                                               | <b>Enigmes</b> | <b>2</b> | <b>Ta réponse ... ici :</b>                              | <b>2</b> |
|  <p><b>A-</b>Combien de comprimés y a-t-il au total ?<br/><b>B-</b> Si mon docteur me dit de prendre 2 comprimés le matin et le soir, en aurai-je assez pour une semaine ?</p>                                                                              |                |          | a) .....<br>.....<br>.....<br>b) .....<br>.....<br>..... |          |



## Enigmes

3

Ta réponse ... ici :

3



A- Quel est le poids de mon enveloppe ?

B- Il faut payer 1€ pour les lettres de moins de 100g, 2€ pour les lettres de 200 g à 300g et il faut payer 2€50 pour les lettres entre 300g et 500g. Combien faut-il payer ? mètres de hauteur ?

- a) .....
- .....
- .....
- b) .....
- .....
- .....



## Enigmes

4

Ta réponse ... ici :

4



A- Combien y a-t-il de macarons ?

B- Combien de macarons contient une boîte pleine ?

- a) .....
- .....
- .....
- b) .....
- .....
- .....

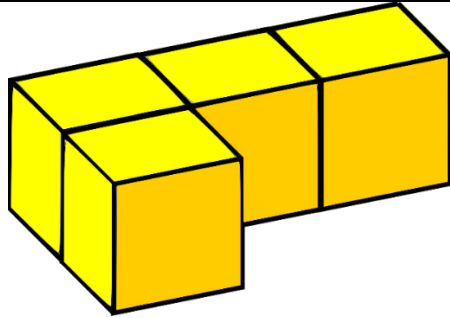


# Enigmes

5

Ta réponse ... ici :

5



- A – Combien y a-t-il de cubes dans cette forme ?
- B – Combien de faces compte cette forme ?

a .....

.....

.....

b.....

.....

.....



# Enigmes

6

Ta réponse ... ici :

6



- A-Quelles formes géométriques vois-tu sur ce ballon ?
- B-Combien y a-t-il de pentagones sur le ballon, en sachant qu'on ne voit que la moitié sur l'image ?

a.....

.....

.....

b.....

.....

.....

